



PEMERINTAH KABUPATEN KEDIRI
DINAS PENDIDIKAN
UPTD SMP NEGERI
PENILAIAN AKHIR SEMESTER GASAL
TAHUN PELAJARAN 2021/2022

Mata Pelajaran : Seni Budaya
Kelas/Semester : VII / 1

Hari, Tanggal : Rabu, 8 Desember 2021
Waktu : 60 menit

I. PILIHLAH SALAH SATU JAWABAN YANG BENAR!

1. Menggambar Flora merupakan kegiatan yang dapat memberikan pemahaman tentang keanekaragaman, keindahan, dan keunikan objek flora (tumbuh-tumbuhan) yang ada di lingkungan sekitar. Flora memiliki banyak jenis dan bentuknya. Bagian-bagian flora dapat digunakan sebagai objek gambar, misal bentuk daun, bunga, dan buah. Bagian-bagian flora ini dapat digambar secara terpisah atau digabung menjadi satu rangkaian.

Dari wacana di atas suatu kegiatan yang dapat memberikan pemahaman tentang keanekaragaman, keindahan, dan keunikan objek flora (tumbuh-tumbuhan) yang ada di lingkungan sekitar disebut *

- A. Menggambar Fauna
- B. Menggambar Benda
- C. Menggambar flora
- D. Menggambar alam benda

2. Dimas untuk menggambar 1 ekor kupu kupu menggunakan kanvas yang berukuran 40cmx60cm, membutuhkan cat sebagai berikut:

- a) warna Merah 5 botol,
- b) warna Hijau 3 botol,
- c) warna Coklat 2 botol.

Dari data diatas, berapakah botol warna Hijau, apabila Dimas akan menggambar 4 ekor kupu-kupu.

- A. warna hijau 20
- B. warna hijau 12
- C. warna hijau 9
- D. warna hijau 8

3. Komposisi dalam menggambar ada 2 yaitu komposisi simetris dan komposisi asimetris. komposisi simetris menunjukkan bahwa objek dibagian kanan bidang gambar sama dengan objek dibagian kiri gambar, sedangkan komposisi asimetris menunjukkan bahwa objek dibagian kanan gambar tidak sama dengan objek dibagian kiri gambar. Dari teks diatas apabila Anandhi ingin menggambar 6 gelas yang ukuran sama dengan komposisi simetris, bagaimanakah penataan komposisi yang tepat?


- A. 4 gelas dibagian kanan, dan 2 gelas dibagian kiri
- B. 3 gelas dibagian kanan, 1 gelas ditengah, dan 2 gelas dibagian kiri
- C. 3 gelas dibagian kanan, dan 3 gelas dibagian kiri
- D. 2 gelas dibagian kanan, dan 4 gelas dibagian kiri

4. Dibawah ini yang merupakan alat dan media dalam menggambar adalah..

- A. pensil, krayon, kertas gambar, pensil warna
- B. krayon, pensil warna, meja, pensil
- C. kertas gambar, pensil, krayon, kanvas
- D. pensil, krayon, pensil warna, buku tulis

5. Gambar di samping ini merupakan ragam hias motif

- A. ragam hias fauna
- B. ragam hias figuratif
- C. ragam hias Flora
- D. ragam hias Geometris



6. Ragam hias dibawah ini merupakan ragam hias



- A. perpaduan ragam hias geometris dan ragam hias figuratif
- B. perpaduan ragam hias flora dan ragam hias fauna
- C. perpaduan ragam hias fauna dan ragam hias figuratif
- D. perpaduan ragam hias geometris dan ragam hias fauna

7. Ragam Hias flora adalah ragam hias yang sumber objeknya dari tumbuhan(vegetal). Nana adalah seorang siswi kelas 7A, sedang menyelesaikan tugas menggambar ragam hias motif flora. Dalam satu lembar buku gambar yang digunakan, ia menggambar 36 bunga. Apabila Nana ingin menggambar ragam hias flora dengan 2 lembar buku gambar, berapa motif bunga yang digambar...


- A. 71 Bunga
- B. 73 bunga
- C. 72 bunga
- D. 75 bunga

8. langkah awal dalam menggambar ragam hias

- A. Persiapkan pola bentuk ragam hias yang akan digambar
- B. warnai gambar
- C. persiapkan alat dan bahan
- D. Buat sketsa disalah satu kotak/bidang yang telah dibuat sebelumnya

9. Dalam menggambar ragam hias motif geometris, Nabila membutuhkan warna merah 7 cup, warna biru 6 cup, warna hitam 2 cup, warna hijau 2 cup. Dari wacana di atas berapa jenis warna yang di butuhkan Nabila dalam menggambar?

- A. 7
- B. 6
- C. 4
- D. 2



10. Ciri utama benda tiga dimensi adalah ...

- A. memiliki panjang dan lebar
- B. memiliki panjang, lebar dan tinggi
- C. memiliki panjang dan tinggi
- D. memiliki lebar dan tinggi

11. Menyanyi merupakan aktivitas yang dapat dilakukan oleh siapa saja dan kapan saja. Menyanyi dapat dilakukan seorang diri maupun bersama-sama secara berkelompok. Menyanyi unisono tidak dapat dilakukan seorang diri, tetapi dilakukan oleh sekumpulan orang dengan menyanyi satu suara saja. Partitur lagu unisono hanya melodi pokoknya saja. Saat menyanyi Unisono dibutuhkan kerja sama dan saling peduli sehingga suara yang ditimbulkan menjadi harmoni.

Dari wacana diatas, apa yang dimaksud dengan unisono....

- A. Menyanyi perseorangan
- B. Menyanyi dengan lebih dari satu suara
- C. Menyanyi dengan satu suara
- D. Menyanyi dengan melodi yang berbeda

12. Dari wacana soal no 11, menyanyi Unisono dilakukan oleh....

- A. Sekumpulan orang
- B. Satu orang
- C. Seorang diri
- D. Penyanyi solo

13. Dalam bernyanyi unisono dibutuhkan


- A. Tidak saling peduli
- B. Kerja sama dan saling peduli
- C. Bernyanyi sendiri sendiri
- D. Tidak ada kekompakan

14. Di kelas 7G terdapat 36 siswa dalam satu kelas, yang terdiri dari 24 siswa putra dan 12 siswa putri. Didalam mempraktekkan bernyanyi secara unisono, seorang guru akan membagi 6 kelompok secara heterogen antara siswa putra dan siswa putri. Dari Wacana diatas, jumlah siswa perkelompok adalah....
- 4 siswa putra dan 2 siswa putri
 - 3 siswa putra dan 2 siswa putri
 - 3 siswa putra dan 3 siswa putri
 - 2 siswa putra dan 4 siswa putri
15. Teknik vokal merupakan suatu kegiatan berolah suara, sebagai media untuk mengekspresikan nilai nilai keindahan musikal seperti artikulasi (kejelasan ucapan), phrasing (kebenaran pemenggalan ucapan pada kalimat lagu, intonasi (ketepatan membidik nada). Apabila ada salah satu kelompok dalam bernyanyi unisono terdapat suara yang fals (menyimpang), berarti kelompok tersebut tidak tepat pada tehnik vokal....
- Phrasing
 - Intonasi
 - Pernapasan
 - Artikulasi

II. PILIHLAH DUA (2) JAWABAN YANG BENAR!

16. Bentuk-bentuk seni : 1) seni lukis 2) seni tari 3) seni suara 4) fotografi 5) batik 6) patung
- Dari data bentuk-bentuk seni di atas, yang penyajiannya menggunakan media visual adalah....
- A. 1), 2), 5)
 - B. 1), 4), 5)
 - C. 2), 3), 5)
 - D. 1), 5), 6)

17. Perhatikan gambar dibawah ini !



Dari gambar diatas, manakah yang termasuk gambar Flora....

- A. a), c), d)
- B. a), b), e)
- C. b), e), g)
- D. b), d), e)

18. (a) warna (b) bidang (c) komposisi (d) balance (e) titik (f) garis.

Yang tergolong ke dalam unsur-unsur seni rupa adalah....

A. a), b), d)

B. a), d), e)

C. a), e), f)

D. b), e), f)

19. Bernyanyi adalah bermusik dengan menggunakan organ suara manusia. Organ suara dalam menjadi alat musiknya. oleh karena itu, aspek kesehatan sangat mempengaruhi mutu suara dalam bernyanyi. Untuk mendapat suara yang baik, yang perlu dilakukan adalah....

A. Hindari pola makan yang kurang sehat

B. Makan makanan berminyak

C. Konsumsi minuman yang dingin / es

D. hindari rokok dan narkoba

20. Dibawah ini yang termasuk lagu daerah adalah....

A. Indonesia Pusaka

B. Anging Mamiri

C. Apuse

D. Halo halo Bandung

III. PILIHLAH JAWABAN YANG BENAR ATAU SALAH PERNYATAAN DI BAWAH INI !

No	Pernyataan	B - S
21.	Alam merupakan sumber belajar yang tidak akan pernah habis untuk digali.	B - S
22.	Menggambar bukan merupakan sarana untuk mengekspresikan diri.	B - S
23.	Penempatan objek dibagian kanan sama dengan objek dibagian kiri gambar disebut komposisi asimetris	B - S
24.	Menentukan bentuk dasar dari objek yang akan digambar merupakan langkah awal dalam menggambar.	B - S
25.	Dalam menggambar fauna harus dapat membedakan ciri-ciri di setiap binatang.	B - S
26.	Indonesia adalah Negara yang kaya akan keanekaragaman ragam hias.	B - S

27.	Ragam hias bukan merupakan symbol yang memiliki nilai kearifan lokal.	B - S
28.	Objek ragam hias figurative adalah manusia dengan peng gayaan bentuk.	B - S
29.	Pola ragam hias pada umumnya pola atau susunan yang diulang-ulang.	B - S
30.	Pernapasan dilakukan dengan mengisi udara dalam paru paru bagian atas, pernapasan ini bagian tubuh yang mengembang adalah dada. Pernapasan di sebut pernapasan diafragma.	B - S

IV. PASANGKAN PERNYATAAN DIBAWAH INI DENGAN JAWABAN DI SAMPING !

No	Pertanyaan	Jawaban
31.	Seni rupa merupakan cabang seni yang dinikmati oleh penglihatan yang disebut juga seni...	A. Flora B. Patung
32.	Bidang merupakan hasil pertemuan dari.....	C. Titik
33.	Teknik menggambar atau melukis dengan menggunakan titik-titik hingga membentuk objek, disebut....	D. Garis E. Bidang
34.	Contoh karya seni rupa tiga dimensi adalah	F. Diafragma
35.	Dalam menggambar ada dua komposisi yang sering digunakan, yaitu	G. Dolanan H. Visual
36.	Yang tergolong ke dalam unsur-unsur seni rupa adalah...	I. Simetris, asimetris
37.	Gambar bunga mawar dan melati adalah contoh gambar	J. Papua K. Aceh
38.	Pernapasan yang paling cocok untuk bernyanyi adalah pernapasan....	L. Pointilis M. Arsir
39.	Lagu "cublak-cublak suweng" termasuk jenis lagu...	N. Phrasering
40.	Lagu Bungong Jumbo berasal dari daerah...	O. Daerah

V. JAWABLAH PERTANYAAN DIBAWAH INI DENGAN SINGKAT !

1. Bagian terkecil dalam unsur seni rupa disebut...
2. Sebutkan contoh objek flora, fauna dan alam benda! (masing-masing 3)
3. Sebutkan 4 motif ragam hias yg ada di Indonesia?
4. Bagaimana cara menjaga agar suara tetap jernih?
5. Apa saja teknik vokal dalam bernyanyi unisono?

Selamat mengerjakan dan Semoga sukses